

地図で示すヨーロッパについて、各問いに答えなさい。

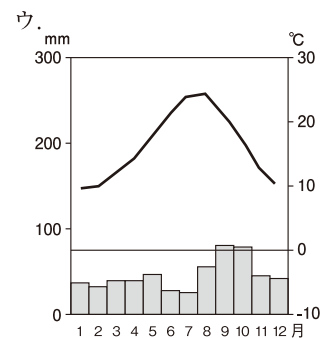
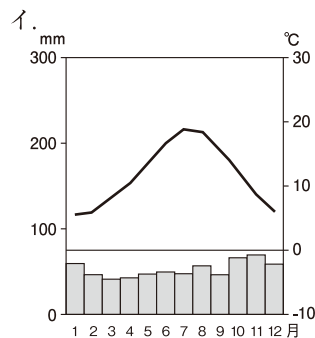
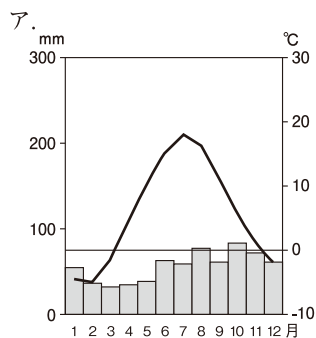
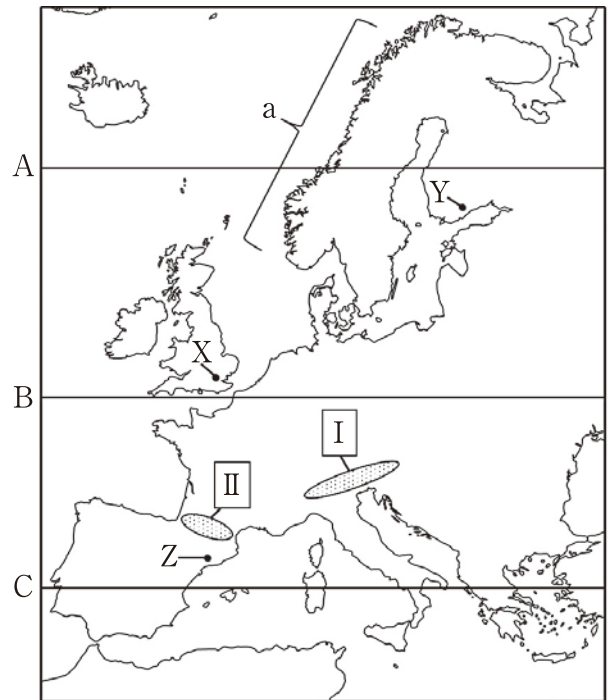
問1 地図中A～Cの緯線のうち、北緯40度線に位置するものはどれか。記号で答えなさい。

問2 地図中aの海岸線は、氷河によって削られた谷に海水が深く入り込んだ地形である。この地形の名称をカタカナ5字で答えなさい。

問3 地図中 I ・ II の山脈名の組み合わせとして正しいものを、次のア～エより選び記号で答えなさい。

- ア. I : アルプス山脈 II : ピレネー山脈
 イ. I : カフカス山脈 II : ピレネー山脈
 ウ. I : アルプス山脈 II : スカンディナヴィア山脈
 エ. I : カフカス山脈 II : スカンディナヴィア山脈

問4 次のア～ウの雨温図は、地図中のX（ロンドン）、Y（ヘルシンキ）、Z（バルセロナ）、各地点のものである。このうちバルセロナに該当するものを、次のア～ウより選び記号で答えなさい。



(気象庁ホームページより引用)

問5 ライン川のように2カ国以上にわたり流れる河川で、外国の船が自由に航行できるように沿岸国間で条約を結んだ河川のことを何というか。解答欄に合うように漢字2字で答えなさい。

問6 ユーロッパ連合域内の多くの国で導入された共通の通貨名をカタカナ3字で答えなさい。

問7 ユーロッパで主に信仰されているキリスト教の宗派のうち、プロテスタントが信仰されているグループとして正しいものを、次のア～ウより選び記号で答えなさい。

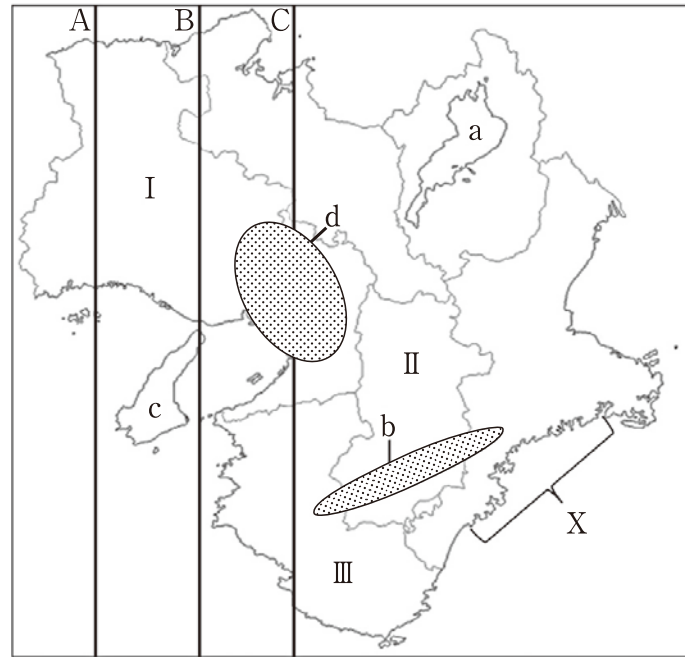
- ア. デンマーク、イギリス、スウェーデン イ. ロシア、ギリシャ、ブルガリア
 ウ. イタリア、フランス、スペイン

問8 高緯度にある北ヨーロッパの国々では、夏になると太陽が沈んでも暗くならない現象が見られる。この現象を漢字2字で答えなさい。

地図が示す地域について、各問いに答えなさい。

近畿地方は地形に注目すると、大きく3つの地域に分けられる。中央低地は、日本最大の湖である □ a □ 湖と淀川を中心とした低地で、現在は大都市が集中する地域となっている。北側と南側は広い範囲が山地となっており、南部には □ b □ 山地が広がっている。また、大阪湾と瀬戸内海を分ける □ c □ 島は近畿地方で最も大きな島である。

淀川が流れ込む大阪湾の周辺は明治時代から繊維などの工業が発達し、第二次世界大戦後は d この地域の中心 として日本の工業を支えてきた。さらに、大阪府の東部にある東大阪市や八尾市などには中小企業の町工場が数多くあり、e 生活にかかわりが深いさまざまな工業製品を生産している。



問1 文中 □ a □ ～ □ c □ は地図中 a ～ c にあたる。それぞれ解答欄に合うように漢字で答えなさい。

問2 下線部 d について、この地域の工業地帯の名称として正しいものを、次のア～エより選び記号で答えなさい。

ア. 京浜工業地帯 イ. 中京工業地帯 ウ. 阪神工業地帯 エ. 京葉工業地帯

問3 下線部 e について、右のグラフはある乗り物の部品の出荷額を示している。この乗り物として正しいものを、次のア～エより選び記号で答えなさい。

合計 182 億円
(令和3年)

大阪	その他
75.5%	24.5%

(出典「工業統計」)

ア. 飛行機 イ. 電車 ウ. 自動車 エ. 自転車

問4 地図中 A ～ C の経線のうち、日本の標準時子午線に位置するものはどれか。記号で答えなさい。

問5 地図中 X の地域で見られる、小さな岬と湾が入り組んだ海岸を何と呼ぶか。解答欄に合うようにカタカナで答えなさい。

問6 次の①～③の文は地図中 I ～ III の県の説明文である。説明内容として正しい組み合わせを、あとのア～カより選び記号で答えなさい。

- ①：人口は、近畿地方の中で大阪府に次いで2位となっている。日本で初めてユネスコの世界遺産に登録された姫路城をはじめ、世界最大級のつり橋である明石海峡大橋が有名である。
- ②：南北に距離が長い県で、南部では台風の影響を受けやすいため、降水量が多いことが特徴である。また、県内における農地面積の約6割を果樹園が占め、全国的にもミカンの栽培が有名である。
- ③：北部は盆地、南部は山地が多いという特徴がある。8世紀頃は、日本の都があり、世界遺産に登録されている寺院や神社が数多くあり、その中でも特に東大寺の大仏が有名である。

ア. ①：I ②：II ③：III

イ. ①：I ②：III ③：II

ウ. ①：II ②：I ③：III

エ. ①：II ②：III ③：I

オ. ①：III ②：I ③：II

カ. ①：III ②：II ③：I

各時代の宗教についてまとめた次の各文を読み、下の問いに答えなさい。

a 奈良時代
聖武天皇や光明皇后は、仏教の力で伝染病や災害などの不安から国家を守ろうと考えた。そこで、国ごとに国分寺・国分尼寺を建て、都には東大寺を建てて金銅の大仏を造らせた。仏教を布教する僧侶はb 税や刑罰を免除されていた。一般の人々に布教して共に橋やため池を造った ① や、唐で尊敬を集めていた ② が日本側の願いに応じて来日していた。

平安時代
③ が比叡山に延暦寺を建て天台宗を、④ が高野山に金剛峯寺を建て真言宗を開いた。こうした新しい仏教は山奥の寺で学問や厳しい修行を行うことを重んじ、貴族の間で広く信仰されるようになっていった。平安中期頃には、天災や社会不安から末法思想が流行した。これを受けて念仏を唱えて阿弥陀仏を信仰すれば、死後、極楽浄土に生まれ変わることができるという説く c 浄土教がさかんになった。

鎌倉時代
d 新しい仏教の教えはわかりやすく実行しやすいものだったため武士や民衆にも広がった。日蓮は題目を唱えれば人も国も救われると説いた。座禅によって自分の力でさとりを開こうとする禅宗が宋から伝わり、臨済宗や曹洞宗が開かれた。禅宗の簡素な教えは武士の間に広がり、幕府は特に臨済宗を保護した。一方、天台宗や真言宗の力もまだ強く、e 朝廷や幕府のために祈とうを行い、教えの見直しも行われた。

室町～江戸時代
1549年 X 会の宣教師であるフランシスコ＝ザビエルが、日本にキリスト教を伝えた。f 織田信長はキリスト教を優遇したのに対し、g 豊臣秀吉は長崎が X 会に寄進されていることを知り、宣教師の国外追放を命じた。江戸時代になると徳川家康は貿易の利益を重視したため、キリスト教は厳しい取り締まりを受けず、キリスト教信者は増加した。しかし、その後幕府は領主への忠義より神への信仰を重んじるキリスト教の教えを危険視し、キリスト教を禁じるために外国との付き合いを禁止する h 政策を打ち出すことになった。これに対し、キリスト教徒への迫害や重い年貢の取り立てに苦しんだ人々は、i 天草四郎を大将に一揆をおこした。

- 問1 下線部 a の時代に置かれていた都の名称として正しいものを、次のア～エより選び記号で答えなさい。
ア. 平城京 イ. 福原京 ウ. 平安京 エ. 藤原京
- 問2 下線部 b について、次の表は奈良時代の農民に課された税の一部を示したものである。その内容 A～C とその説明 I～Ⅲの正しい組み合わせを、次のア～カより選び記号で答えなさい。

農民への課税	内 容
租	A
庸	B
調	C

- I：布（労役10日のかわり）
II：絹・布・塩など各地方の特産物
Ⅲ：稲（収穫量の約3%）

- ア. A：I B：II C：Ⅲ イ. A：I B：Ⅲ C：II ウ. A：II B：I C：Ⅲ
エ. A：II B：Ⅲ C：I オ. A：Ⅲ B：I C：II カ. A：Ⅲ B：II C：I

問3 空欄 ① ～ ④ にあてはまる人物を、それぞれ次のア～エより選び記号で答えなさい。

ア. 鑑真 イ. 空海 ウ. 最澄 エ. 行基

問4 下線部cについて、右の図は藤原頼通が極楽浄土の姿を表現しようとして造らせた建物である。この建物の名称として正しいものを、次のア～エより選び記号で答えなさい。



ア. 法隆寺
イ. 中尊寺金色堂
ウ. 日光東照宮
エ. 平等院鳳凰堂

問5 下線部dについて、一心に「南無阿弥陀仏」と念仏を唱えれば、誰でも極楽浄土に行けると説き、浄土宗を開いた人物として正しいものを、次のア～エより選び記号で答えなさい。

ア. 親鸞 イ. 一遍 ウ. 法然 エ. 道元

問6 下線部eについて、1221年に朝廷の勢力を回復しようとした上皇が幕府を倒そうと兵をあげたが、その時の上皇の名前と起こった出来事の名称の組み合わせとして正しいものを、次のア～エより選び記号で答えなさい。

ア. 上皇：後鳥羽上皇	出来事：承久の乱	イ. 上皇：後白河上皇	出来事：承久の乱
ウ. 上皇：後鳥羽上皇	出来事：壬申の乱	エ. 上皇：後白河上皇	出来事：壬申の乱

問7 空欄 X にあてはまる語句をカタカナで答えなさい。

問8 下線部 f について、彼は 1582 年に全国統一を目前にして家臣に背かれ本能寺で自害したが、彼に背いた家臣として正しい人物を、次のア～エより選び記号で答えなさい。

ア. 武田勝頼 イ. 明智光秀 ウ. 今川義元 エ. 柴田勝家

問9 下線部gについて、彼が行った政策として正しいものを、次のア～ウより選び記号で答えなさい。

ア. 武家諸法度という法律を定め、大名が許可なく城を修復したりすることを禁じた。

イ. 2度にわたる朝鮮出兵を実行するも、自らの死をきっかけに全軍が引き揚げた。

ウ. 自らの補佐役として管領を置き、細川氏などの有力な大名を任命した。

問10 下線部hについて、江戸幕府が行った禁教・貿易統制・外交独占を政策とする体制を何と呼ぶか。漢字2字で答えなさい。

問11 下線部 i について、この一揆の名称として正しいものを、次のア～エより選び記号で答えなさい。

ア. 島原の乱 イ. 保元の乱 ウ. 平治の乱 エ. 応仁の乱

次の表を見て、下の問いに答えなさい。

西 暦	で き ご と
1854	<input type="text" value="X"/> の軍事的圧力を前に、幕府は日米和親条約を結ぶ
1875	明治政府は樺太・千島交換条約を結ぶ。・・・(A) <input type="text" value="ア"/>
1905	日露戦争の結果、ポーツマス条約が結ばれる。・・・(B) <input type="text" value="イ"/>
1919	日本は、第一次世界大戦後にヴェルサイユ条約に調印した。・・・(C) <input type="text" value="ウ"/>
1941	日ソ中立条約を結び、北方の安全を確保する。 <input type="text" value="エ"/>
1945	日本は、ポツダム宣言を受け入れて降伏する。・・・(D)

問 1 年表中 にあてはまる人物名をカタカナ 3 字で答えなさい。

問 2 年表中 (A) について、次の文章はこの条約の条文を部分要約したものである。これを読んで、日本が領有したのは樺太か千島列島かどちらか答えなさい。

第 1 条 日本の天皇は、その子孫に至るまで、現在の樺太の一部の領有権や、そのほか一切の権利をすべてロシアの皇帝にゆずり、今後樺太全島はすべてロシア領となり宗谷海峡を両国の国境とする。

第 2 条 ロシアの皇帝は、その子孫に至るまで、第 1 条に記した樺太の権利を受ける代わりとして…千島列島の合計 18 島の領有権や、そのほか一切の権利を日本の天皇に譲り、今後千島列島は日本領とし、カムチャッカ半島のロパトカ岬と占守島との間の海峡を両国の国境とする。

問 3 年表中 (B) について、この戦争・条約についての説明として正しいものを、次のア～ウより選び記号で答えなさい。

- ア. 日本はこの戦争が起こる 2 年前にフランスと同盟を結んで、ロシアに対抗しようとした。
 イ. この戦争に対する反戦論は一切なく、特に新聞が開戦論を主張し世論を動かした。
 ウ. ポーツマス条約の条項の中に賠償金に関するものはなく、これについて日本で暴動が起きた。

問 4 年表中 (C) について、この条約が結ばれた講和会議で中国は山東省の権益の返還を要求したが拒否された。これにより、北京で起こった大規模な暴動の名称として正しいものを、次のア～エより選び記号で答えなさい。

- ア. 二・二六事件 イ. 五・一五事件 ウ. 三・一独立運動 エ. 五・四運動

問 5 年表中 (D) について、右の写真は宣言を受け入れる約 1 週間前にアメリカが投下した原子爆弾の爆心地付近を撮影したものである。この建物は現在、原爆ドームと呼ばれているが、この建物がある都市として正しいものを、次のア～エより選び記号で答えなさい。

- ア. 大阪 イ. 広島 ウ. 東京 エ. 長崎



問6 次の(Ⅰ)・(Ⅱ)の出来事は、年表中の **ア** ～ **エ** のどの期間に起きたものか。それぞれ記号で答えなさい。

(Ⅰ) ニューヨークの株式市場で株価が大暴落したことから始まる世界恐慌が起こった。

(Ⅱ) 日本で、天皇が国民に与えるという形で、大日本帝国憲法が制定された。

5

次の各問いで3枚の写真とそれに関する説明文を読み、撮影した時期を古い順に並べ替えて答えなさい。

問1 ア.



イ.



ウ.



説明 ア. 衆議院である条約の承認が強行されたことを受けて、発生した大規模デモの様子。

イ. 中央にいる人物が吉田茂首相で、日本の主権が回復することを決めた条約に署名している様子。

ウ. 右側の人物は昭和天皇であり、GHQの最高司令官と横に並んでいる様子。


問2 ア.



イ.



ウ.



説明 ア. 大阪府の吹田市で日本初の万博が開かれたときの様子。後ろに写っているのは大阪万博のシンボルである。

イ. 石油を使った商品が値上がりし、トイレットペーパー売り場の人々が殺到している様子。

ウ. 世界的なスポーツの祭典が東京で初めて行われ、開会式で日本選手団が入場しているときの様子。

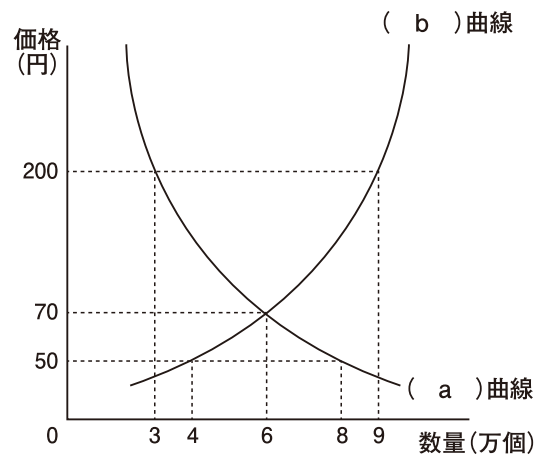
6

右の図に関して述べた次の文中（ a ）～（ f ）にあてはまる語句を、あとのア～ケよりそれぞれ選び記号で答えなさい。

これはある市場におけるリンゴの取引の状況を表している。グラフの（ a ）曲線は買い手の行動を示し、50 円なら 8 万個買うが、70 円では 6 万個、200 円になれば 3 万個しか買わないことを示している。また、（ b ）曲線は売り手の行動を示し、50 円なら 4 万個しか売ろうとしないが、70 円なら 6 万個、200 円なら 9 万個も売りたいことを示している。このグラフでは 70 円で（ a ）量と（ b ）量がつりあっており、この価格を（ c ）価格という。

仮に、ある年のみかんやイチゴが不作でリンゴの（ a ）量が上がった場合、グラフの（ a ）曲線は（ d ）にスライドし（ c ）価格は 70 円より上がることが図から読み取れる。

価格の決まり方は様々で、一人の売り手しかいない（ e ）や、少数の売り手しかいない（ f ）の状態では、売り手が価格を決めることができってしまう可能性がある。



- ア. 右 イ. 左 ウ. 需給 エ. 需要 オ. 供給
カ. 寡占 キ. 独占 ク. 管理 ケ. 均衡

7

日本国憲法に関する次の文を読み、下の問いに答えなさい。

a 日本国憲法には三大原則があり、個人の尊重を実現するために、「基本的人権の尊重」がある。人権思想の発達の歴史は、b 17・18 世紀の欧米までさかのぼる。基本的人権には、c 自由権・社会権・参政権などがある。また、近年では「d 新しい人権」も重要視されている。私たちには、権利だけではなく e 国民の義務があることも忘れてはいけない。

問 1 下線部 a について、三大原則のうち憲法 9 条で特に規定されている考え方は何か。解答欄に合うように答えなさい。

問 2 下線部 b について、人権獲得の歴史について次の（１）・（２）の問いに答えなさい。

（１）次の表はこの時代に出された宣言文と内容をまとめたものである。年代の古い順に並べ替えて答えなさい。

記号	宣言文	内 容
ア	イギリス権利章典	都市の限られた富裕層である市民の自由を保障し、議会政治の基礎を確立した。
イ	フランス人権宣言	基本的人権の保障、国民主権、権力分立を定めた。
ウ	アメリカ独立宣言	生命・自由・幸福の追求のための新しい政府を樹立した。

（２）右の絵は、当時の社会が聖職者・貴族・平民の 3 つの身分に分かれており、聖職者や貴族の生活が平民の犠牲の上に成り立っていることを示したものである。この絵に最も関係の深い宣言文を、（１）の表のア～ウより選び、記号で答えなさい。



- 問3 下線部 c について、次の A～C の権利は「自由権…ア」・「社会権…イ」・「参政権…ウ」のいずれに分類されるか、それぞれ記号で答えなさい。ただし、同じ記号は使わない。
- A：財産権の保障 B：健康で文化的な最低限度の生活を営む権利 C：憲法改正の国民投票権
- 問4 下線部 d について、政府や自治体を持つ情報について、市民が公開を求める根拠となる権利を何というか。解答欄に合うように答えなさい。
- 問5 下線部 e について、国民の三大義務としてあてはまらないものを、次のア～エより選び記号で答えなさい。
- ア. 教育を受けさせる義務 イ. 勤労の義務 ウ. 納税の義務 エ. 投票の義務

8

世界の政治と選挙の仕組みについての各問いに答えなさい。

- 問1 日本やアメリカの政治の仕組みについて述べた A・B の文の正誤の組み合わせとして正しいものを、次のア～エより選び記号で答えなさい。
- A：アメリカでは大統領制が採用され、大統領は議会から独立した権限を持っている。
B：日本では議院内閣制が採用され、国民からの直接選挙で総理大臣が選出される。
- ア. A：正 B：正 イ. A：正 B：誤 ウ. A：誤 B：正 エ. A：誤 B：誤
- 問2 日本の選挙制度について述べた A・B の文の正誤の組み合わせとして正しいものを、次のア～エより選び記号で答えなさい。
- A：衆議院議員選挙は小選挙区制と比例代表制を併用している。
B：参議院議員選挙は、3年ごとに定数の半数を選挙で決定し入れ替えている。
- ア. A：正 B：正 イ. A：正 B：誤 ウ. A：誤 B：正 エ. A：誤 B：誤
- 問3 日本の国会議員の定数や任期について述べた A・B の文の正誤の組み合わせとして正しいものを、次のア～エより選び記号で答えなさい。
- A：衆議院議員の定数は参議院議員の定数の2倍以上である。
B：参議院議員の任期は衆議院議員の任期より長い。
- ア. A：正 B：正 イ. A：正 B：誤 ウ. A：誤 B：正 エ. A：誤 B：誤
- 問4 日本の選挙の4つの原則は「普通選挙」と「平等選挙」とあと2つは何か。組み合わせとして正しいものを、次のア～エより選び記号で答えなさい。
- ア. 「直接選挙」と「公開選挙」 イ. 「直接選挙」と「秘密選挙」
ウ. 「間接選挙」と「秘密選挙」 エ. 「間接選挙」と「公開選挙」

受 験 番 号

大 阪 偕 星 学 園 高 等 学 校
令和7年度 入 学 試 験 問 題 社 会 解 答 用 紙

合 計 得 点

※記入しないこと。

1

問 1		問 2						問 3		問 4	
問 5		河川	問 6					問 7		問 8	

1

2

問 1	a	湖			b	山地			c	島					
問 2			問 3			問 4			問 5	海岸			問 6		

2

3

問 1		問 2		問 3	①		②		③		④	
問 4		問 5		問 6		問 7					問 8	
問 9		問10			問11							

3

4

問 1				問 2				問 3		問 4	
問 5		問 6	I		II						

4

5

問 1		→		→		問 2		→		→	
-----	--	---	--	---	--	-----	--	---	--	---	--

5

6

a		b		c		d		e		f	
---	--	---	--	---	--	---	--	---	--	---	--

6

7

問 1			主義	問 2	(1)		→		→	(2)	
問 3	A		B		C		問 4		権利	問 5	

7

8

問 1		問 2		問 3		問 4	
-----	--	-----	--	-----	--	-----	--

8